

LIVRET-JEUX À PARTIR DE 6 ans

# Sur les pas d'Henri en Albret



Nérac



« Bonjour,  
je suis Henri de Navarre.  
Ma famille, les Albret, vivait à Nérac,  
il y a plus de 700 ans.  
Découvrons ensemble  
trois sites qui leur ont appartenu.  
Aide-moi à répondre aux  
questions et à trouver  
la phrase mystère ... »

Pars à la découverte de trois sites emblématiques de l'Albret :  
le musée-château Henri IV, le parc de la Garenne et le moulin des Tours.

En t'aidant des informations du « livret de découverte, Nérac Site Majeur  
d'Aquitaine », réponds aux questions du livret-jeux, et trouve la phrase mystère.

Rendez-vous au château, à l'office du tourisme ou sur Internet pour découvrir  
si ta phrase mystère est la bonne.

---

## Consignes de sécurité

N'oublie pas de regarder à droite et à gauche avant de traverser la route !

Ne saute pas dans la rivière !

Les œuvres du musée sont fragiles, on ne doit pas les toucher !

# Le Moulin des Tours

*Sur le pont ...*





1 A quoi sert un pont ?

.....

2 A l'aide de la frise, indique combien d'années nous séparent de cette construction.  
*Indice : La case rouge représente le siècle de la construction du pont, les cases vertes symbolisent les siècles jusqu'à ce jour. Petit rappel : 1 siècle équivaut à 100 ans.*

**XIII<sup>e</sup> s.** **XIV<sup>e</sup> s.** **XV<sup>e</sup> s.** **XVI<sup>e</sup> s.** **XVII<sup>e</sup> s.** **XVIII<sup>e</sup> s.** **XIX<sup>e</sup> s.** **XX<sup>e</sup> s.** **XXI<sup>e</sup> s.**

.....

3 Combien de pas doit-on faire pour traverser le pont ?

.....

4 A l'aide de la réponse à la question précédente, calcule la longueur du pont si l'on utilise la mesure en pas existant sous l'Ancien Régime (1 pas = 60 cm).

.....

5 Les arcs sous le pont sont-ils en plein cintre (arrondis) ou en arc d'ogive (en pointe) ?



6 L'une des fonctions des avant-becs sur le pont est de protéger le pont du courant. Quelle est leur autre fonction ?




7 La rivière Gélise passe sous le pont roman, dans quelle autre rivière plus connue se jette-t-elle ?

L\_\_trines

Arch\_\_res

Créne\_\_x

T\_\_r



8 En observant le moulin, complète les mots sur le croquis.

9 Un de ces produits n'a jamais été fabriqué dans ce lieu, lequel ?



10 Cet édifice a servi également de foulon (du verbe fouler : presser avec les pieds ou les mains) où l'on foulait des ... *Indice : Aujourd'hui, on les trouve dans les lits.*

11 Au XIX<sup>e</sup> siècle, du liège était stocké dans le moulin. De quel arbre est-il extrait ?

12 Dans la rue, sur la façade en face du moulin est inscrit le nom du meunier :

13 Quel est le nom des barils gravés à côté des sacs de farine ? Pour t'aider, résous les devinettes suivantes :

a)  b)  c)  d)  e)

a) Quel est le métier de l'homme qui fabrique la farine dans le moulin ?

b) Combien de sacs de farine sont représentés sur la façade en face du moulin ?

c) Sur quelle commune est situé le moulin des Tours dit de Barbaste ?

d) Autre céréale utilisée pour faire de la farine, différente du blé :

e) Au XIX<sup>e</sup> siècle, comment appelle-t-on l'établissement où

se préparaient les farines avant la livraison dans le commerce ?

# Le Parc de la Garenne et les jardins du Roi

*À l'entrée du parc...*



1 A quel animal fait penser le mot Garenne ?

.....

2 Dans le parc royal au XVI<sup>e</sup> siècle, on voyait, en gascon, des « los », des « ors » et des « monin » en cage.

Quels sont les noms de ces animaux en français?

*Indice : le premier est un cousin du chien, le second aime manger du miel et le troisième vit dans les arbres et mange des bananes ...*

.....

3 A côté de la grotte de Fleurette, quel arbre « mange » les panneaux et les barrières avec son tronc ?

*Indice : trouve le panneau « buvette » et les arbres face à la grotte.*

.....

4 En contre-bas, tu trouveras le lavoir au bord de la Baïse.  
A quoi servait-il au XIX<sup>e</sup> siècle ?

.....

5 Quels animaux observe-t-on dans le parc aujourd'hui ?

*Indice : eux ne sont pas en cage !*

.....

6 Dans le parc de la Garenne on trouve surtout trois essences d'arbres, lesquelles ?



*Indice : CH\_N\_ / M\_RR\_NN\_ \_ \_ / PL\_T\_N\_*

.....

7 Qui vit dans les arbres totem ? Des oiseaux, des chauves-souris, des insectes mais aussi un animal à trouver à l'aide du rébus suivant :

K



8 Sur quelle rive de la Baïse est située la Garenne ?

.....

9 La fontaine du Dauphin est dédiée au fils d'Henri IV.  
Retrouve son prénom en remplaçant les numéros suivants par les lettres correspondantes : •12 • 15 • 21 • 9 • 19 •

1	2	3	4	5	6	7	8	9	10	11	12	13	14	15	16	17	18	19	20	21	22	23	24	25	26
⌋	⌋	⌋	⌋	⌋	⌋	⌋	⌋	⌋	⌋	⌋	⌋	⌋	⌋	⌋	⌋	⌋	⌋	⌋	⌋	⌋	⌋	⌋	⌋	⌋	⌋
A	B	C	D	E	F	G	H	I	J	K	L	M	N	O	P	Q	R	S	T	U	V	W	X	Y	Z

.....

10 Une marque sur l'un des murs du chalet témoigne du niveau des différentes crues de la rivière. Quelle est la date de la dernière crue ?

**Emprunte la passerelle pour traverser et te rendre dans les jardins du roi.**



11 En quelle année la passerelle a-t-elle été construite ? 1599 • 1895 • 2009

.....

12 Quel poisson ne se trouve pas dans cette rivière ?  
• Le gardon • La perche • Le poisson clown •

.....

13 Observe le chemin de halage, à quoi servait-il au XIX<sup>e</sup> siècle ?  
• A faire du roller • A tirer les bateaux • A skier •

.....





14 Une fois dans le jardin d'évocation Renaissance...  
Quelle est la forme du pavillon des Bains du Roi ?

A  
carré

B  
cercle

C  
octogonal

D  
losange

15 En quelle année a eu lieu la crue la plus haute ?  
*Indice : observe les murs extérieurs du pavillon des Bains du Roi*

16 Retrouve l'arbre remarquable dans le jardin en répondant à la devinette :

- mon premier est un objet de guerre explosif
- mon second est la troisième voyelle de l'alphabet
- mon troisième est le nom d'une clôture végétale
- mon tout est un arbuste planté à côté du Pavillon

# Le château Henri IV

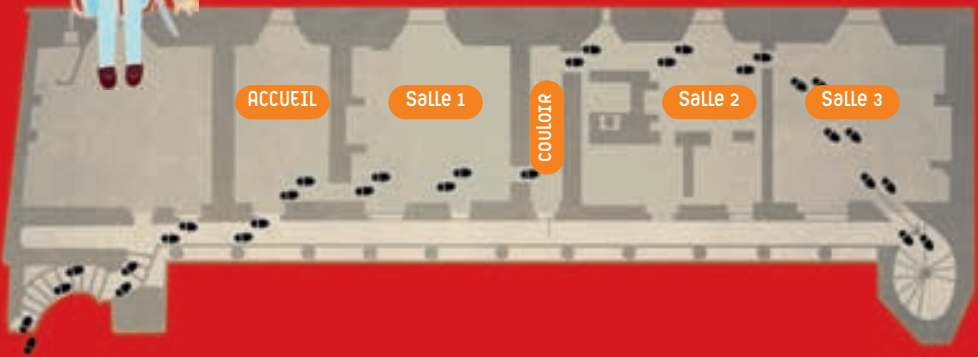
Dans le château...

A l'aide des explications présentes dans les salles du château Henri IV,  
trouve les réponses aux questions.





### Premier étage



### Rez de chaussée



Les plans des salles...

Salle 1

## L'architecture du château

- 1 Comment s'appelle le passage qui permettait d'entrer dans la cour du château ?  
*Indice : Sur la maquette, il est situé dans l'ancienne aile d'entrée*
- .....

- 2 Dans quelle aile du château te trouves-tu ?  
• Aile Nord • Aile Sud • Aile Est • Aile Ouest •  
*Indice : Aide toi du plan du château.*
- .....

- 3 A quelle époque le château a-t-il été en partie détruit ?
- .....

- 4 Quel nom donne-t-on aux fenêtres ?
- Meneaux
  - Poireaux
  - Corbeaux
  - Moineaux



## La famille des Albret

- 5 De quel village étaient originaires les Albret ?
- .....
- 6 Dans quel château est né Henri de Navarre, futur roi Henri IV ?
- .....

Salle 2

## Les trois cours au XVI<sup>e</sup> siècle.

- 7 Traverse le couloir, puis tourne deux fois à droite. Quel est le nom de cette pièce ?
- .....

8

Le potier a laissé sa marque de fabrique en forme de carré sur certaines tomettes (carreaux de terre cuite) sur le sol de cette pièce, combien en comptes-tu ?

.....

9

On appelle les deux petites pièces dans cette salle des garde-robes. Quelle était leur fonction ?

.....

10

Voici la quantité de viande, extraite d'un banquet à Nérac au XVI<sup>e</sup> siècle, pour une centaine de personnes : 260 livres de bœuf + 84 livres de veau + 236 livres de mouton = 580 livres. Donne l'équivalent du résultat en Kg  
*Indice : 1 livre = 0,45359237 Kg, ici nous arrondissons à 0,500 Kg*

.....

Salle 3

## D'Henri de Navarre à Henri IV

11


Observe le tableau de l'entrée d'Henri de Navarre à Libourne après la bataille de Coutras, de Pierre-Jérôme Lordon.

Que font les hommes au centre du tableau ?

- ils offrent une épée • ils lancent une attaque • ils rendent les armes •
- .....

12

Margot et Henri ont inversé certains de leurs vêtements, entoure les noms :



## au pied de l'escalier en vis

### Salle 4

## La construction du château

- 13 A l'aide du repère ci-dessous et de tes doigts, calcule l'épaisseur des murs.



• Mur intérieur : ..... • Mur extérieur : .....

- 14 Pourquoi les murs sont-ils plus épais du côté extérieur (Nord), que du côté intérieur (Sud) de la pièce ?

.....

- 15 Dans cette salle, une pierre taillée qui soutient une poutre porte le même nom qu'un oiseau, lequel ?



.....

### Salle 5

## La vie du château à la Renaissance

- 16 On se baignait et on se parfumait dans cette salle... Comment s'appelle-t-elle ?

.....

- 17 A la Renaissance, la toilette s'effectuait à l'aide de linges propres (laviolles) et d'éponges que l'on trempait dans un bassin. Quelle maladie craignait-on d'attraper en se lavant car on pensait qu'elle traversait les pores de la peau ?  
• la grippe • le chikungunya • la peste •

.....

- 18 Au XVIII<sup>e</sup> siècle, pour se brosser les dents, on utilisait un linge un peu rugueux avant de se rincer les dents avec de l'eau mêlée d'un liquide acide. Remets les lettres dans le bon ordre pour le découvrir : • R • I • N • V • I • G • E • A •

### Salle 6

19 Dans cette salle se croisaient marmitons, potagers, sauciers, galopins (serveurs)... De quelle pièce s'agit-il ?

.....

20 Quel mode de cuisson existait au XVI<sup>e</sup> siècle ?  
• la gazinière • le four électrique • la cheminée

.....

*... emprunte le petit passage pour continuer la visite*

### Salle 8

## L'architecture du château (2)

21 Dans cette pièce, en observant le plafond tu verras :  
• une clé de voûte • une clé des champs • une clé de porte

.....

22 Dans le blason d'Alain d'Albret dit Le Grand, situé au plafond, on retrouve la fleur qui symbolise les rois de France, connais-tu son nom ?

.....

### PARUIS

23 Lequel de ces dessins n'apparaît pas sur la façade du château ?



## Phrase mystère

Grâce à cette charade, tu trouveras la phrase mystère.

- 1- Mon premier est à l'opposé de la tête.
- 2- Mon deuxième est la ville où se déroule ce jeu.
- 3- Mon troisième est un organe vital.
- 4- Mon quatrième est un village limitrophe de mon deuxième.
- 5- Mon tout est un des sites majeurs.

J'ai les (1) à (2) mais mon (3) est à (4), qui suis-je ? (5)



## Informations pratiques

Le jeu se déroule à l'intérieur et à l'extérieur du musée - château Henri IV et en accès libre, à l'extérieur du moulin des Tours et dans le Parc de la Garenne.

## Moulin des Tours, dit Moulin de Barbaste

Rue du Moulin des Tours - 47600 Nérac

Visite commentée de l'intérieur du moulin toute l'année sur réservation (groupes) et en juillet et en août : mercredi 11h, jeudi 16h, vendredi 11h, samedi et dimanche 16h.

Tarifs : individuels : 4 €, gratuit moins de 12 ans, groupes : 3 €, scolaires/étudiants : 2€.

## Parc de la Garenne et Jardins du Roi

Avenue de Lattre de Tassigny - 47600 Nérac

Ouvert toute l'année, en accès libre.

## Musée-château Henri IV

Rue Henri IV - 47600 Nérac - Tél. 05 53 65 21 11

E-mail : [chateau.musee@ville-nerac.fr](mailto:chateau.musee@ville-nerac.fr) - [www.nerac.fr](http://www.nerac.fr) et sur Facebook

Ouvert d'octobre à mars : de 14h à 18h, tous les jours sauf lundi et vendredi.

Fermé du 1<sup>er</sup> décembre au 31 janvier, le 1<sup>er</sup> week-end de mai et le 3<sup>ème</sup> lundi de septembre.

Ouvert d'avril à septembre : de 10h à 18h, tous les jours.

Tarifs : individuels 4 €, gratuit pour les moins de 12 ans, réduit et groupes 3€.

Site accessible aux personnes déficientes visuelles.

Office du tourisme du Val d'Albret : 7 avenue Mondenard - 47600 Nérac

Tél. 05 53 65 27 75 • [accueil@albret-tourisme.com](mailto:accueil@albret-tourisme.com) • [www.albret-tourisme.com](http://www.albret-tourisme.com)

Réponse à la phrase mystère sur le site internet : [www.nerac.fr](http://www.nerac.fr)

